

ภาคผนวกวิชาคณิตศาสตร์  
ชั้นประถมศึกษาปีที่3 แผนที่1

# แบบฝึกหัดทวน

## “กิจกรรมจับคู่แสนสนุก”

ชื่อ.....ชั้น.....

คำสั่ง : จงหาผลบวกของจำนวนต่อไปนี้พร้อมทั้งเขียนแสดงวิธีคิดหาคำตอบ

1.



วิธีคิด

.....  
.....  
.....  
.....  
.....

2.



วิธีคิด

.....  
.....  
.....  
.....  
.....

3.



วิธีคิด

.....  
.....  
.....  
.....  
.....

4.



วิธีคิด

.....  
.....  
.....  
.....  
.....

## ภาคผนวก

### เกมเปิดแผ่นป้าย

อุปกรณ์

1. แผ่นป้ายที่ 1 เป็นแผ่นป้ายโจทย์ จำนวน 9 ข้อ


$3 + 12$	$15 + 5$	$12 + 6$
$14 + 3$	$20 + 7$	$14 + 14$
$11 + 12$	$9 + 10$	$12 + 12$

2. แผ่นป้ายที่ 2 เป็นแผ่นป้ายคำตอบ จำนวน 9 คำตอบ

27	20	24
15	18	19
23	28	17

### วิธีการเล่น

- ครูติดแผ่นป้ายบนกระดาน 2 แผ่นป้าย
- นักเรียนดูแผ่นป้ายทั้งหมด(ป้ายโจทย์ ป้ายคำตอบ) จำตำแหน่งโจทย์ ในแผ่นป้ายที่ 1 และจำตำแหน่งคำตอบในแผ่นป้ายที่ 2 ให้เวลา 2 นาที
- ครูพลิกแผ่นป้ายกลับด้าน
- แต่ละกลุ่มส่งตัวแทนเปิดแผ่นป้ายโจทย์ แล้วต้องรีบไปเปิดแผ่นป้ายคำตอบให้ตรงกับโจทย์ที่เปิดในเวลา 1 นาที ถ้าเปิดถูกต้อง 1 คะแนน เปิดไม่ถูกพลิกแผ่นป้ายกลับที่เดิม
- เล่นเกมจนเปิดถูกทุกแผ่นป้าย
- กลุ่มที่เปิดแผ่นป้ายได้คะแนนมากที่สุดเป็นผู้ชนะ



ภาคผนวกวิชาคณิตศาสตร์  
ชั้นประถมศึกษาปีที่3 แผนที่2

แบบฝึกทบทวน



ชื่อ.....ชั้น.....

คำสั่ง : ให้แสดงวิธีคิดที่หลากหลายที่สุด

1.



วิธีคิด

2.



วิธีคิด

3.



วิธีคิด

4.



วิธีคิด

5.



วิธีคิด


ภาคผนวกวิชาคณิตศาสตร์  
ชั้นประถมศึกษาปีที่3 แผ่นที่4

แบบฝึกเสริมทักษะ




ชื่อ.....ชั้น.....


คำสั่ง : ให้หาคำตอบพร้อมแสดงวิธีคิดหาคำตอบให้ได้หลากหลายวิธี

1.   $64 + 36 + 35$

วิธีคิด.....  
.....  
.....  
.....  
.....  
.....  
.....

2.   $74 + 40 + 26$

วิธีคิด.....  
.....  
.....  
.....  
.....  
.....  
.....

3.   $62 + 38 + 50$

วิธีคิด.....  
.....  
.....  
.....  
.....  
.....  
.....


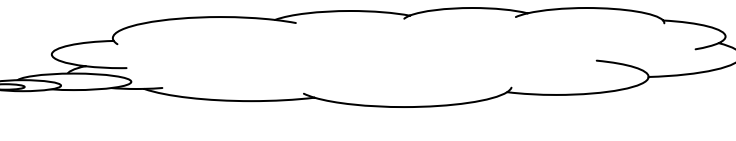
ภาคผนวกวิชาคณิตศาสตร์  
ชั้นประถมศึกษาปีที่3 แผ่นที่5






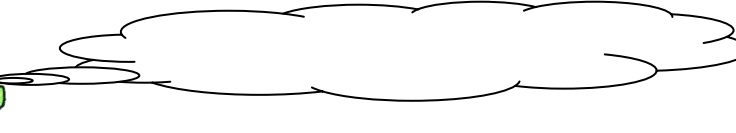
# แบบฝึกทบทวน


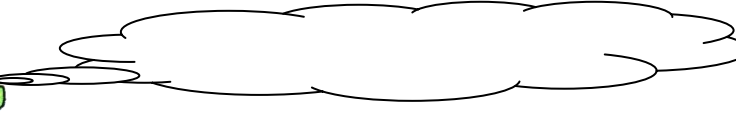
ชื่อ.....ชั้น.....


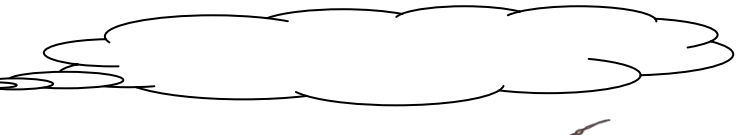
คำสั่ง : ให้นักเรียนเขียนจำนวนที่กำหนดให้ในรูปกระจายและในรูปผลรวม

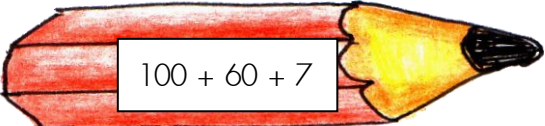
1.  


2.  

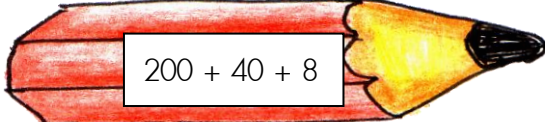
3.  


4.  

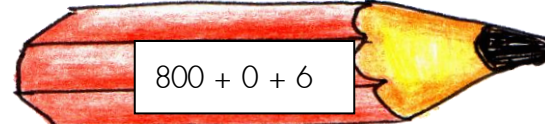
5.  


6. 

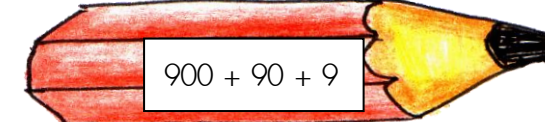



7. 



8. 



9. 




ภาคผนวกวิชาคณิตศาสตร์  
ชั้นประถมศึกษาปีที่3 แผ่นที่6

# แบบฝึกทบทวน

ชื่อ..... ชั้น.....

คำสั่ง : จงหาผลบวกของจำนวนต่อไปนี้พร้อมทั้งเขียนแสดงวิธีคิดหาคำตอบ


1.



วิธีคิด

.....
.....
.....
.....
.....


2.



วิธีคิด

.....
.....
.....
.....
.....


3.



วิธีคิด

.....
.....
.....
.....
.....


4.



วิธีคิด

.....
.....
.....
.....
.....

5.



วิธีคิด

.....
.....
.....
.....
.....

ภาคผนวกวิชาคณิตศาสตร์  
ชั้นประถมศึกษาปีที่3 แผ่นที่7

ใบงานกลุ่ม กิจกรรม “ตัวเลขซ่อนหน”แผนการสอนที่ 7

ชื่อกลุ่ม.....


--

1.  $145+438$   
 $305+607$


2.  $316+457$


3.


4.  $608+207$   
 $563+271$


5.  $293+186$


6.


7.  $360+280$   
 $335+196$


8.  $422+91$


9.




## ภาคผนวก

แผ่นป้าย ด้านหลังมีตัวเลขโดด 0 - 9 ใช้ประกอบแผนการสอนสัปดาห์ที่ 2  
แผนการสอนที่ 7



ภาคผนวกวิชาคณิตศาสตร์  
ชั้นประถมศึกษาปีที่3 แผ่นที่8



แผ่นภาพการ์ตูน ที่ด้านหลังมีตัวเลข 0-9 แผนการสอนที่ 8



## ใบงานกลุ่ม กิจกรรม“ลองทำดู” แผนการสอนที่ 8

ชื่อกลุ่ม.....



- คำสั่ง :**
- ให้นักเรียนแต่ละกลุ่มช่วยกันสร้างประโยคสัญลักษณ์การบวกเลข 3 หลักจากแผนภาพการ์ตูนที่เลือกได้ อย่างไรก็ตาม โดยมีเงื่อนไขว่า โจทย์การบวกที่สร้างขึ้นต้องมีตัวทดไปข้างหน้า 2 หลัก
  - ให้นักเรียนแต่ละกลุ่มเขียนแสดงวิธีคิดให้ได้หลากหลายวิธีและเขียนลงในกระดาษนำเสนอ

--	--	--	--	--	--



ภาคผนวกวิชาคณิตศาสตร์  
ชั้นประถมศึกษาปีที่3 แผนที่9

ภาพผลไม้ที่มีจำนวนตัวเลขสามหลัก



# ใบงาน กิจกรรมกลุ่ม “ค้นหาฉันให้เจอ”

ชื่อกลุ่ม.....

คำสั่ง : นักเรียนแต่ละกลุ่มช่วยกันนำบัตรตัวเลขที่เลือกได้มาสร้างประโยคสัญลักษณ์การบวกเลข 3 หลัก 3 จำนวน และแสดงวิธีหาคำตอบให้ได้หลากหลาย

เก่งจังเลยคะ เยี่ยมมาก

--	--	--



ภาคผนวกวิชาคณิตศาสตร์  
ชั้นประถมศึกษาปีที่3 แผ่นที่10

## ใบงานกลุ่มกิจกรรม“ป้องกันแสนกล”

ชื่อกลุ่ม.....

- คำสั่ง : 1. นักเรียนช่วยกันเขียนประโยคสัญลักษณ์การบวกเลขสี่หลักที่มีตัวทดจาก  
ตัวเลขที่เลือกได้จากลูกปิงปอง พร้อมแสดงวิธีคิดหาคำตอบ ให้ได้หลากหลาย
2. นักเรียนนำเสนอผลงานหน้าชั้นเรียน

--	--	--	--	--	--	--	--







แบบฝึกทบทวน

ชื่อ.....ชั้น.....


คำสั่ง : ให้นักเรียนแสดงวิธีคิดหาคำตอบ




① 
$$\begin{array}{r} 2,341 + \\ \underline{6,237} \\ \hline \end{array}$$




② 
$$\begin{array}{r} 1,776 + \\ \underline{1,954} \\ \hline \end{array}$$




③ 
$$\begin{array}{r} 1,952 + \\ \underline{1,980} \\ \hline \end{array}$$




④ 
$$\begin{array}{r} 1,113 + \\ \underline{5,988} \\ \hline \end{array}$$




⑤ 
$$\begin{array}{r} 5,000 + \\ \underline{8,000} \\ \hline \end{array}$$



⑥ 
$$\begin{array}{r} 5,387 + \\ \underline{8,347} \\ \hline \end{array}$$



⑦ 
$$\begin{array}{r} 6,859 + \\ \underline{1,346} \\ \hline \end{array}$$



⑧ 
$$\begin{array}{r} 6,318 + \\ \underline{4,916} \\ \hline \end{array}$$